
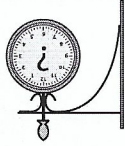


de trein naar Rotterdam	_____	_____	_____
de trein naar Deventer	16.20 uur	_____	_____
de trein naar Maastricht	8.50 uur	_____	_____
de trein naar Alkmaar	_____	_____	_____
de trein naar Almelo	_____	_____	_____
de trein naar Leeuwarden	21.45 uur	_____	_____

Cursist B





Je ziet informatie over de vertrektijden en de sporen van de treinen. Maar sommige informatie is weg. Stel vragen en vul de antwoorden in.
 Cursist A: vraag aan cursist B hoe laat de treinen vertrekken en van welk spoor.
 Cursist B: geef antwoord.
 Cursist A: schrijf de antwoorden op.
 Klaar? Dan stelt cursist B vragen.



Werkblad 1.10 **Prat samen en vul in. ****

de trein naar Rotterdam	_____	_____	_____
de trein naar Deventer	14.55 uur	_____	_____
de trein naar Maastricht	9.15 uur	_____	_____
de trein naar Alkmaar	7.30 uur	_____	_____
de trein naar Almelo	_____	_____	_____
de trein naar Leeuwarden	_____	_____	_____

Cursist A



Je ziet informatie over de vertrektijden en de sporen van de treinen. Maar sommige informatie is weg. Stel vragen en vul de antwoorden in.
 Cursist A: vraag aan cursist B hoe laat de treinen vertrekken en van welk spoor.
 Cursist B: geef antwoord.
 Cursist A: schrijf de antwoorden op.
 Klaar? Dan stelt cursist B vragen.



Werkblad 1.10 **Prat samen en vul in. ****